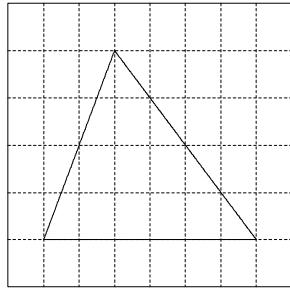


学 楽 (相似な図形)


相 似

1つの図形を、形を変えずに一定の割合に拡大、または縮小して得られる図形は、もとの図形と _____ であるという。

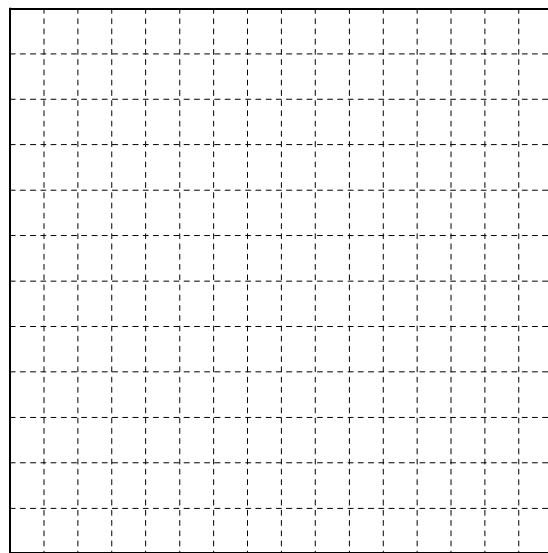
【例題1】 次の三角形の2倍に拡大した図を下の方眼に書きなさい。



[目が縦も横も2倍の方眼]



[目が同じ方眼]



【例題2】 次の図の1/2に縮小した図を書きなさい。

